




١) وزّع ١٢ زهرة على ٤ مزهريّات بالتساوي ، ثم أكتب عبارتي قسمة .

$$\underline{\quad} = \underline{\quad} \div \underline{\quad}$$

$$\underline{\quad} = \underline{\quad} \div \underline{\quad}$$



٢) أوجد ناتج ما يأتي :

$$\underline{\quad} = 6 \div 6$$

$$\underline{\quad} = 5 \div 5$$

$$\underline{\quad} = 4 \div 4$$

$$\underline{\quad} = 2 \div 14$$



$$\underline{\quad} = 5 \div 10$$

$$\underline{\quad} = 5 \div 15$$

٣) صل بين عبارة القسمة و ناتج القسمة .

$$5 \div 25$$

$$2 \div 18$$



٦

٧

٤

٥

٩