



وزارة التربية

إدارة الشؤون التعليمية  
مؤقتة الامتحانات وشؤون الطلبة



نموذج الإجابة

المرحلة الابتدائية

اختبارات نهاية الفصل الدراسي الأول

المادة: الاجتماعيات

الصف: الخامس

العام الدراسي

2018 / 2017



العام الدراسي ٢٠١٧/٢٠١٨  
الفصل الدراسي الأول  
الزمن ساعة وربع  
عدد الأوراق (4)

وزارة التربية  
الإدارة العامة للإدارة العامة لمنطقة مبارك الكبير التعليمية  
التوجيه الفني للاجتماعيات

**نموذج إجابة اختبار نهاية الفصل الدراسي الأول لمادة بلادي الكويت للصف الخامس**

**السؤال الأول : موضوعي ويتكون من ( أ - ب ) : ( ١٢ درجة )**  
**أ - ضع علامة ( √ ) امام العبارة الصحيحة وعلامة ( x ) امام العبارة الخاطئة :**

م	العبارة	العلامة
١	أرض الكويت صحراء منبسطة تنحدر تدريجيا من الغرب إلى الشرق وتقع سواحلها على الخليج العربي .	√ ص ٢٦
٢	دوارة الرياح تقيس اتجاه وسرعة الرياح .	√ ص ٣٣
٣	قسم العالم إلى عدة أقاليم مناخية .	√ ص ٣٥
٤	يبشر بالفتح ووفرة الخضرة بالصحراء في موسم الجوزاء .	X ص ٣٦
٥	الشيخ أحمد الجابر الصباح هو الحاكم الثاني عشر لدولة الكويت .	X ص ٥٠
٦	لقب الشيخ عبدالله السالم الصباح بـ " أبو الاستقلال و أبو الدستور " .	√ ص ٥٣

**ب - اكتب المفاهيم أو المصطلحات الدالة على العبارات التالية :**

- ١- ( الكتبان الرملية ) تلال من الرمال تتراكم في الصحاري بفعل الرياح . ص ٢٧
- ٢- ( السرايات ) أمطار رعدية تسقط في مارس وأبريل ومايو . ص ٣٣
- ٣- ( وكالة ناسا ) وكالة أشادت بجهود العرب في مجال علوم الفضاء . ص ٣٦
- ٤- ( التصحر ) إمتداد تأثير الصحراء على المناطق الرعوية والزراعية . ص ٤٧
- ٥- ( امتياز التنقيب ) إعطاء الدولة حق البحث والتنقيب عن النفط وبيعه لشركة أجنبية متخصصة تشارك الدولة في قسط من العائدات المالية لمدة معينة . ص ٥٠
- ٦- ( الدستور ) وثيقة مكتوبة تتكون من مجموعة من المواد التي تنظم العلاقة بين الحاكم والمحكوم وتحدد حقوق وواجبات المواطنين نحو وطنهم . ص ٥٢

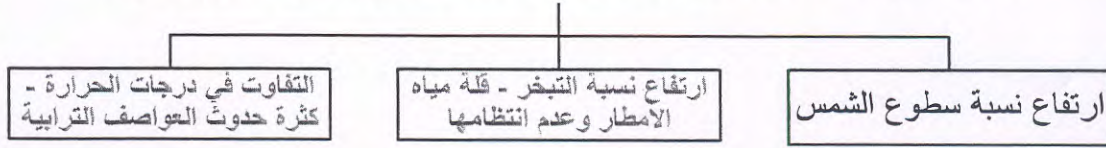


نموذج إجابة اختبار نهاية الفصل الدراسي الأول لمادة بلادي الكويت للصف الخامس

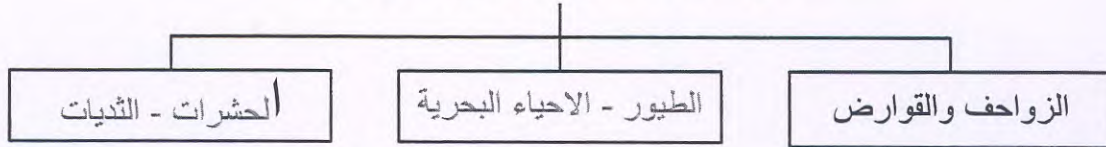
السؤال الثاني : موضوعي ويتكون من ( أ - ب ) : ( ١٢ درجة )

أ - أكمل المخططات السهمية التالية :

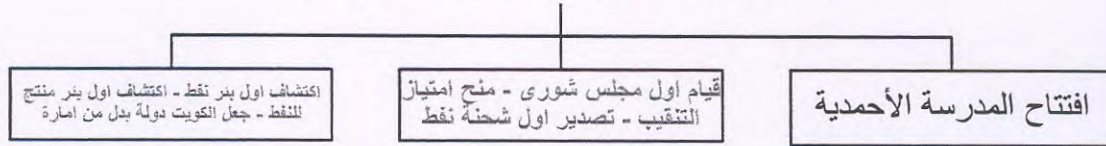
١- من الظروف المناخية المؤثرة على شكل الغطاء النباتي في دولة الكويت ص ٤٠



٢- من الحيوانات التي تعيش في بلادي ص ٤٤



٣- من انجازات الشيخ أحمد الجابر الصباح ص ٥٠



ب- اختر للمجموعة (أ) ما يرتبط بها من المجموعة (ب) بوضع الرقم المناسب :

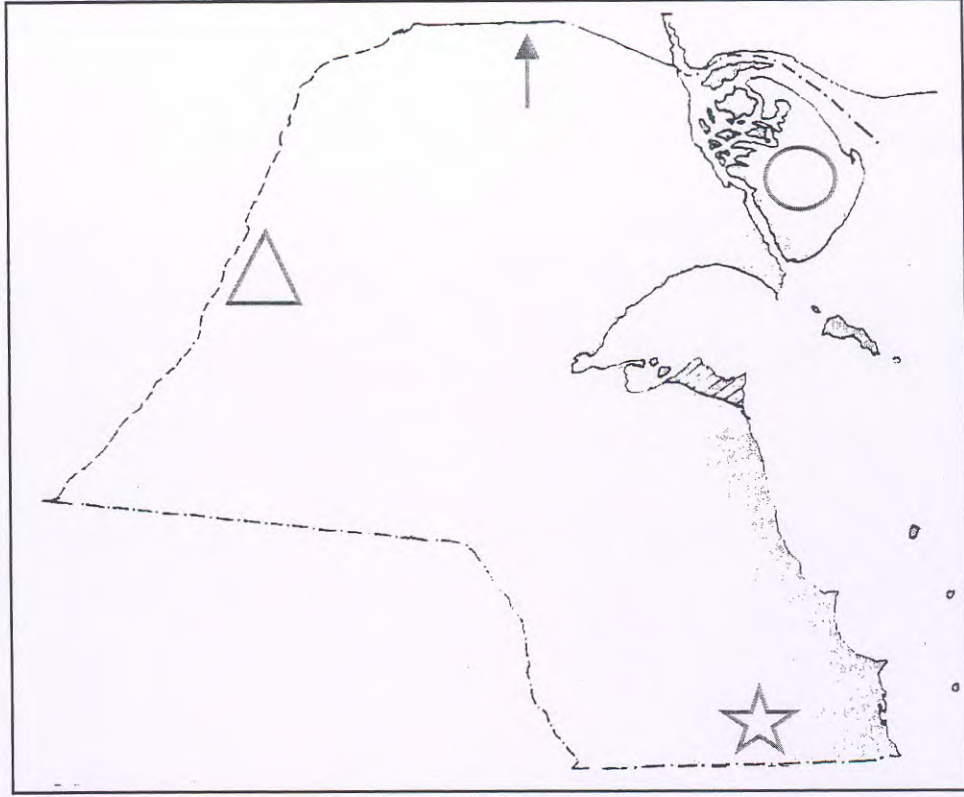
م	المجموعة (أ)	الرقم المناسب	المجموعة (ب)
١	دائرة العرض الرئيسية. ص ١٨	٣	الطقس
٢	خط الطول الرئيسي. ص ١٨	٤	المناخ
٣	حالة الجو لفترة زمنية قصيرة. ص ٣٢	٦	السموم
٤	حالة الجو لفترة زمنية طويلة. ص ٣٢	٢	خط جرينتش
٥	رياح مغبرة تهب في فصل الصيف. ص ٣٦	١	خط الاستواء
٦	رياح شديدة الحرارة. ص ٣٦	٥	البوارح
			المربعانية







نموذج إجابة اختبار نهاية الفصل الدراسي الأول لمادة بلادي الكويت للصف الخامس

السؤال الثالث : مقالتي ويتكون من ( أ - ب ) : ( ٨ درجات )

أ - أمامك خريطة دولة الكويت الصماء حدد عليها مايلي :



- ١- وادي الباطن ص ٢٦ (بوضع الرمز )  
 ٢- العبدلي ص ٤٦ ( بوضع الرمز )  
 ٣- جزيرة بوبيان ص ٢٦ (بوضع الرمز )  
 ٤- الوفرة ص ٤٦ ( بوضع الرمز )

ب- قارن بين كل من خطوط الطول ودوائر العرض من حيث الأهمية والعدد: ص ١٨

دوائر العرض	خطوط الطول	أوجه الاختلاف
اهمية مناخية	تحديد التوقيت الزمني - تحديد موقع الدولة	الأهمية
١٨٠	٣٦٠	العدد

**نموذج إجابة اختبار نهاية الفصل الدراسي الأول لمادة بلادي الكويت للصف الخامس**

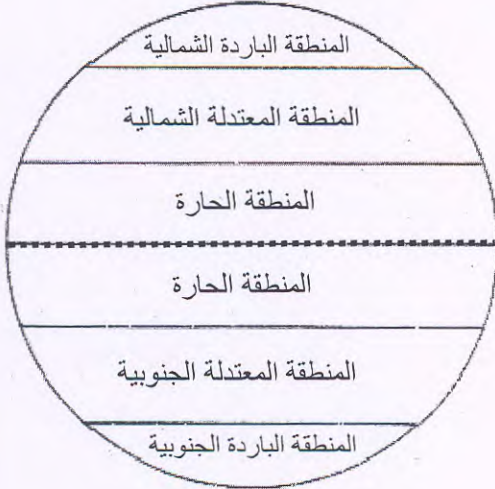
**السؤال الرابع : مقالي ويتكون من ( أ - ب ) : ( ٨ درجات )**

**أ - فرق بين كل من مما يلي .**

نباتات طبيعية دائمة أو معمرة	نباتات طبيعية حولية أو موسمية
نباتات ذات جذور عميقة تمتاز بصفات تعينها على الاستفادة من المياه القليلة وتزدهر في فصل الربيع . ص ٤٠	نباتات تتكاثر بعد سقوط المطر وتكمل دورة حياتها في فترة زمنية قصيرة . ص ٤٠

الانجازات الخارجية للشيخ عبدالله السالم الصباح	الانجازات الداخلية للشيخ عبدالله السالم الصباح
إلغاء معاهدة الحماية - الانضمام للجامعة العربية - الانضمام لهيئة الأمم المتحدة . ص ٥٢	رفع العلم الجديد - صدور عملة جديدة - انشاء المجلس التأسيسي - اجراء اول انتخابات نيابية وافتتاح مجلس الامة . ص ٥٢

**ب - ادرس الشكل الذي أمامك ثم أجب عن الأسئلة التي تليه :**



١ - لماذا يختلف المناخ بين مناطق العالم؟ ص ٣٤

• الموقع بالنسبة لدوائر العرض .

• توزيع اليابس والماء .

• الارتفاع عن مستوى سطح البحر .

٢ - ما هي المنطقة المناخية التي تقع فيها دولة الكويت؟ ص ٣٤

المنطقة الحارة .